

Rallye mathématique du Centre et du Congo


Épreuve officielle - Mardi 20 mars 2012

Il est rappelé que toute réponse devra être accompagnée d'une justification.
Les solutions partielles seront examinées.

Exercice n°1

Formez les rangs !

5 points



Lors d'un entraînement, le même petit groupe de légionnaires de l'armée romaine a pu se mettre en formation carrée aussi bien qu'en formation triangulaire. Combien de légionnaires romains ont participé à cet entraînement ?

Un historien prétend qu'une armée de 1225 hommes pouvait se mettre en formation carrée aussi bien qu'en formation triangulaire. A-t-il raison ?

Exercice n°2

Quand Cupidon s'emmêle...

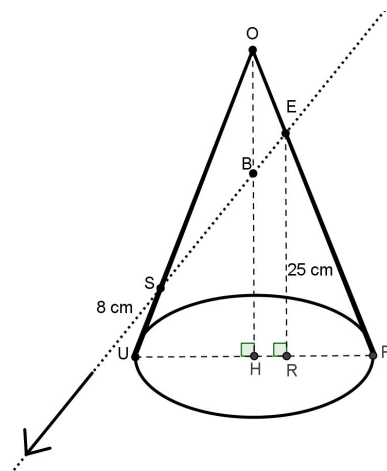
12 points

Pipo est un clown triste, un de ces clowns blancs avec son chapeau en forme de cône. Sarah est une trapéziste amoureuse de Pipo. Mais Pipo est trop triste pour être amoureux. Cupidon a donc décidé de lui décocher une de ses célèbres flèches. Malheureusement, Cupidon a raté sa cible et la flèche a traversé le chapeau du clown. Elle est entrée dans le chapeau en E, a traversé la hauteur en B et est ressortie en S.

- La hauteur OH du cône est de 30 cm.
- Le rayon du disque de base est de 10 cm.
- La longueur ER est de 25 cm.
- La longueur US est de 8 cm.

Calculer les longueurs OE et OS.

Dessiner à l'échelle $\frac{1}{4}$ le patron du chapeau, puis placer correctement dessus les points E et S.



Exercice n°3**Cinq colonnes à la une****8 points**

Les nombres entiers strictement supérieurs à 1 sont rangés dans cinq colonnes selon le principe ci-dessous :

	a	b	c	d	e
1ère ligne	2	3	4	5	
2ème ligne		9	8	7	6
3ème ligne	10	11	12	13	
4ème ligne		17	16	15	14

Le nombre 13 est situé dans la 3ème ligne, colonne d.

En continuant le principe énoncé ci-dessus, où se situe :

1. le nombre 2012 ?
2. le nombre 1002 ?
3. le nombre 747 ?

Exercice n°4**Le Carré de POLYBE****5 points**

	1	2	3	4	5
1	A	B	C	D	E
2	F	G	H	I	J
3	K	L	M	N	O
4	P	Q	R	S	T
5	U	V	X	Y	Z

Polybe, un historien grec (vers 200 – 125 av. J.-C.), est à l'origine du premier procédé de chiffrement par substitution. C'est un système de transmission basé sur un carré de 25 cases. Chaque lettre peut être ainsi représentée par un groupe de deux chiffres : celui de sa ligne suivi de celui de sa colonne.

Ainsi : "E" = 15, "U" = 51, "N" = 34 ...

Mais ce codage est peut-être un peu simple. On décale alors l'alphabet avec un mot de passe... Par exemple, si le mot de passe est ELECTRICITE, on commence à remplir le carré avec les lettres de ce mot, en ne gardant que la première occurrence de chaque lettre, ce qui donne E L C T R I, puis on complète le tableau avec les lettres inutilisées dans l'ordre alphabétique. (voir ci-contre)

	1	2	3	4	5
1	E	L	C	T	R
2	I	A	B	D	F
3	G	H	J	K	M
4	N	O	P	Q	S
5	U	V	X	Y	Z

Le W n'est pas utilisé. Au besoin, on emploie le V à sa place.

Que se cache-t-il derrière le message chiffré ci-dessous ? Pour le découvrir, il faut le SESAME.

41153212214531234244121431124422123413213413111112

Exercice n°5**Le dé qui roule****8 points**

Un dé est dans la position initiale ci-contre.

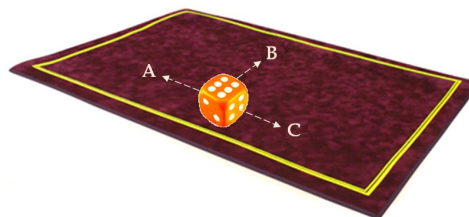
Pour les dessins demandés, on utilisera le même type de représentation.



On enchaîne sur ce dé, à partir de cette position initiale, certaines opérations successives de basculement. Ces opérations sont déterminées par la valeur apparue sur la face supérieure du dé.

Ainsi si cette face supérieure indique :

- 1, alors on bascule le dé en direction de A, une fois ;
- 2, alors on bascule le dé en direction de A, deux fois ;
- 3, alors on bascule le dé en direction de B, une fois ;
- 4, alors on bascule le dé en direction de B, deux fois ;
- 5, alors on bascule le dé en direction de C, une fois ;
- 6, alors on bascule le dé en direction de C, deux fois.

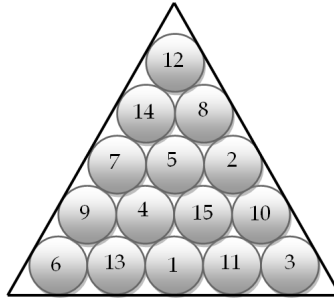


1. Dessiner le dé dans sa position initiale puis après la première application du procédé et ensuite pour les onze applications suivantes. Effectuer la somme des treize faces supérieures représentées précédemment.
2. On continue le procédé, jusqu'à ce que la somme des faces supérieures soit égale à 2012. Dessiner alors le dé dans cette dernière position.

Indication : la somme des nombres indiqués sur deux faces opposées d'un dé vaut toujours 7.

Exercice n°6**Good game!****5 points**

This figure on the right represents 15 snooker balls enclosed in their wooden triangle. The diameter of the balls is of 57 mm. How much does the side of the triangle measure?

**Exercice n°7****Au bal masqué, ohé...****5 points**

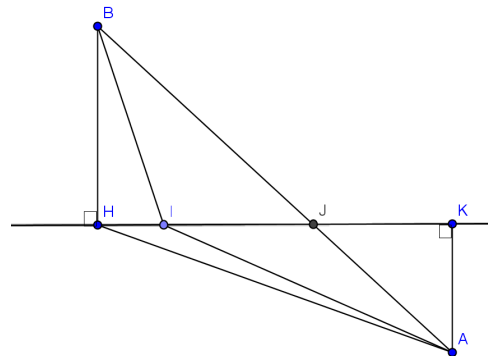
Aristide, Ben et Christian préparent une fête masquée chez l'une de leurs camarades. Ils disposent de trois déguisements, un pour chacun : fantôme, pirate et vampire.

- Ben dit : « Si Christian se déguise en vampire, alors moi je me mets en pirate!!! »
- Christian répond : « Si Ben se déguise en fantôme, alors moi je me mets en pirate!!! »
- Et Aristide de conclure : « Si Ben ne se déguise pas en vampire, alors moi je me mets en pirate!!! »

Quelles sont les répartitions possibles des déguisements de chacun ?

Exercice n°8**Le maître nageur****12 points**

Un maître nageur s'entraîne au sauvetage. Il est sur la plage et surveille la baignade dans un lac séparé de la plage par un muret rectiligne. Il est en A, à 6 m de ce muret ($AK = 6$ m) et doit rejoindre au plus vite une bouée située en B, à 9 m du muret ($BH = 9$ m) et à 20 m sur la gauche de A ($HK = 20$ m). Il nage à la vitesse d'un mètre par seconde et il court sur le sable quatre fois plus vite qu'il ne nage.



1. Il se dit d'abord qu'il ira plus vite en passant par H que s'il allait en B en ligne droite, coupant $[HK]$ en J. A-t-il raison ?
2. Puis il se dit que peut-être, en passant entre H et K par I tel que $HJ = 4 \times HI$, il ira encore plus vite. Est-ce vrai ?
3. N'y a-t-il pas un trajet encore plus rapide ? Si oui, préciser la position correspondante du point M, entre H et K.